

# チェックテスト

## 2A

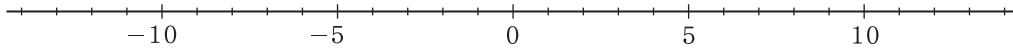
### 正の数・負の数の加法, 減法の基本

得点

/ 100

1 数直線を使って, 次の計算をしなさい。

ステップ 1



①  $3 + 1$   
3より1大きい数

②  $2 + 7$   
2より7大きい数

③  $(-5) + 8$   
-5より8大きい数

④  $(-9) + 6$   
-9より6大きい数

⑤  $(-4) + 4$   
-4より4大きい数

⑥  $10 - 4$   
10より4小さい数

⑦  $5 - 6$   
5より6小さい数

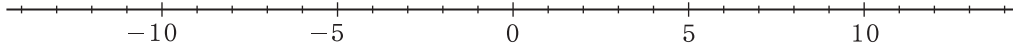
⑧  $0 - 2$   
0より2小さい数

⑨  $(-1) - 3$   
-1より3小さい数

⑩  $(-5) - 7$   
-5より7小さい数

2 数直線を参考にして, 次の計算をしなさい。

ステップ 2



①  $(+2) + (+3)$   
 $= 2 + 3$

②  $(+7) - (+4)$   
 $= 7 - 4$

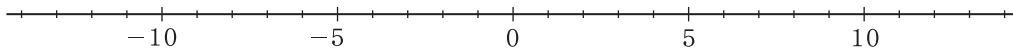
③  $(+1) - (+9)$   
 $= 1 - 9$

④  $(-6) + (+5)$   
 $= (-6) + 5$

⑤  $(-3) - (+4)$   
 $= (-3) - 4$

3 数直線を参考にして, 次の計算をしなさい。

ステップ 3



①  $(+7) + (-2)$   
 $= 7 - 2$

②  $(+3) + (-9)$   
 $= 3 - 9$

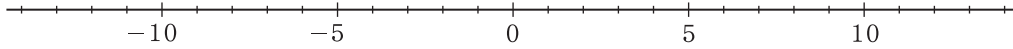
③  $(+1) - (-5)$   
 $= 1 + 5$

④  $(-4) + (-3)$   
 $= (-4) - 3$

⑤  $(-2) - (-8)$   
 $= (-2) + 8$

4 次の式を, まず( )のない式になおし, 数直線を参考にして計算しなさい。

ステップ 4



①  $(+4) + (+5)$   
 $= 4 + 5$

②  $(+6) + (-10)$   
 $= 6 - 10$

③  $(-8) - (-3)$   
 $= -8 + 3$

④  $0 - (-7)$   
 $= 0 + 7$

⑤  $(+5) - (-2) + (-6)$   
 $= 5 + 2 - 6$

1

4点×10

- ① 4
- ② 9
- ③ 3
- ④ -3
- ⑤ 0
- ⑥ 6
- ⑦ -1
- ⑧ -2
- ⑨ -4
- ⑩ -12

2

4点×5

- ① 5
- ② 3
- ③ -8
- ④ -1
- ⑤ -7

3

4点×5

- ① 5
- ② -6
- ③ 6
- ④ -7
- ⑤ 6

4

4点×5

- ① 9
- ② -4
- ③ -5
- ④ 7
- ⑤ 1